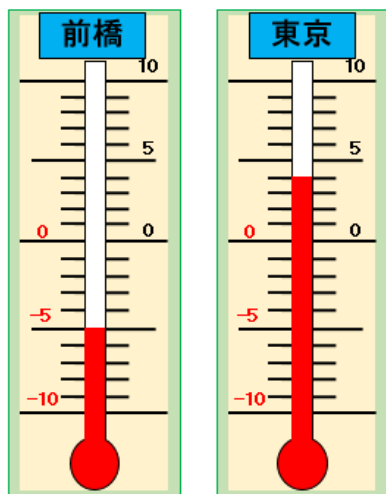


＜くめあて＞－や＋のついた数は、どんなことを表しているのだろうか。



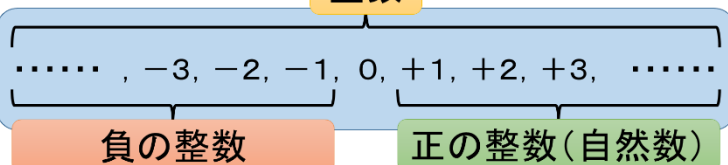
0℃を基準にして、それより低い温度は、マイナスを使って表します。
 -5℃は、0℃より5℃低い温度、+4℃は、0℃より4℃高い温度を表しています。



＜用語の確認＞

+・・・正の符号 , -・・・負の符号
 正の数・・・0より大きい数
 負の数・・・0より小さい数
 0・・・正でも負でもない数

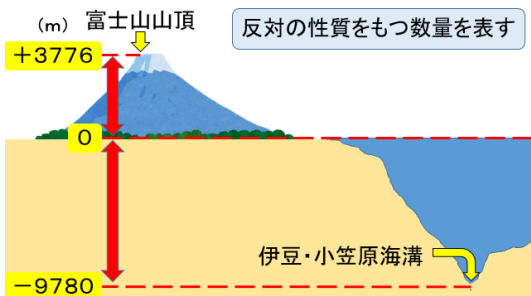
整数



整数には、正の整数、0、負の整数があります。正の整数を自然数ともいいます。

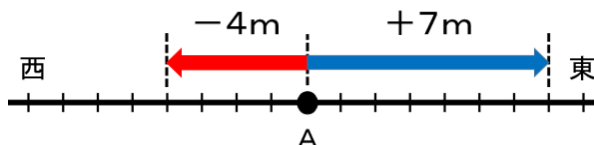


正の数、負の数を使って表すことができますか？



海面を基準の0 mとすると、
 富士山は、+3776 m
 伊豆・小笠原海溝は、-9780 m

移動を表す



基準とのちがいを表す

	去年	今年
女子 (人)	96	102
男子 (人)	105	100

去年の人数を基準にすると、
 今年的女子は、+6人
 今年の男子は、-5人

地点Aを基準にすると、
 東へ7 mの移動は、+7 m
 西へ4 mの移動は-4 m

＜まとめ＞

- ◆0より大きい数を正の数、0より小さい数を負の数という。
- ◆整数には、正の整数（自然数）、0、負の整数がある。
- ◆基準を決め、－や＋を使って、反対の性質や基準との違いを表している。